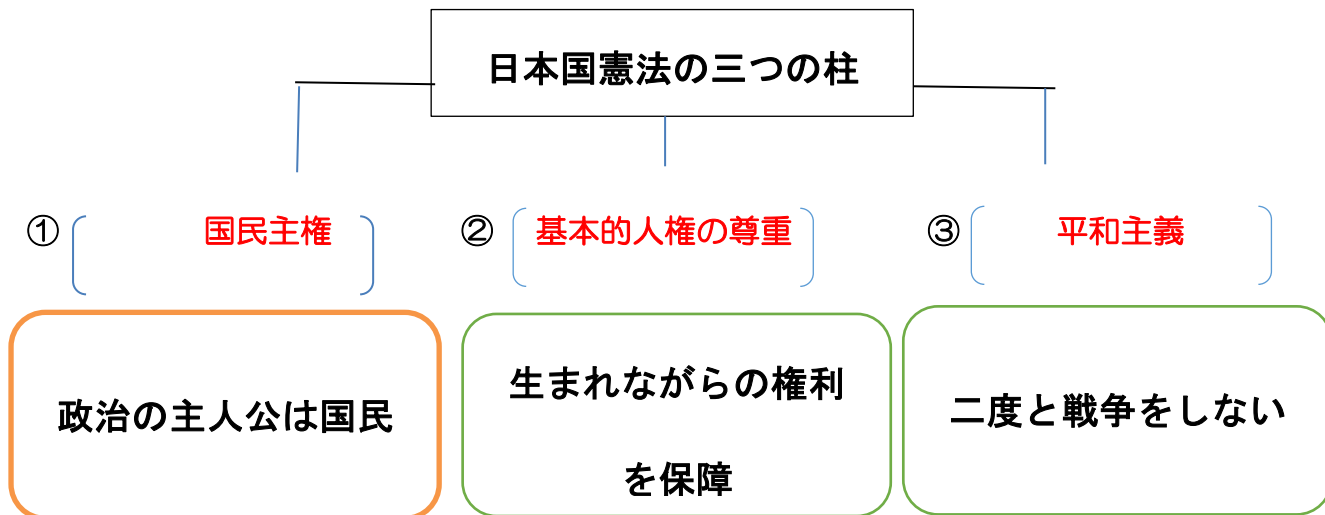


チャレンジシート② きほん

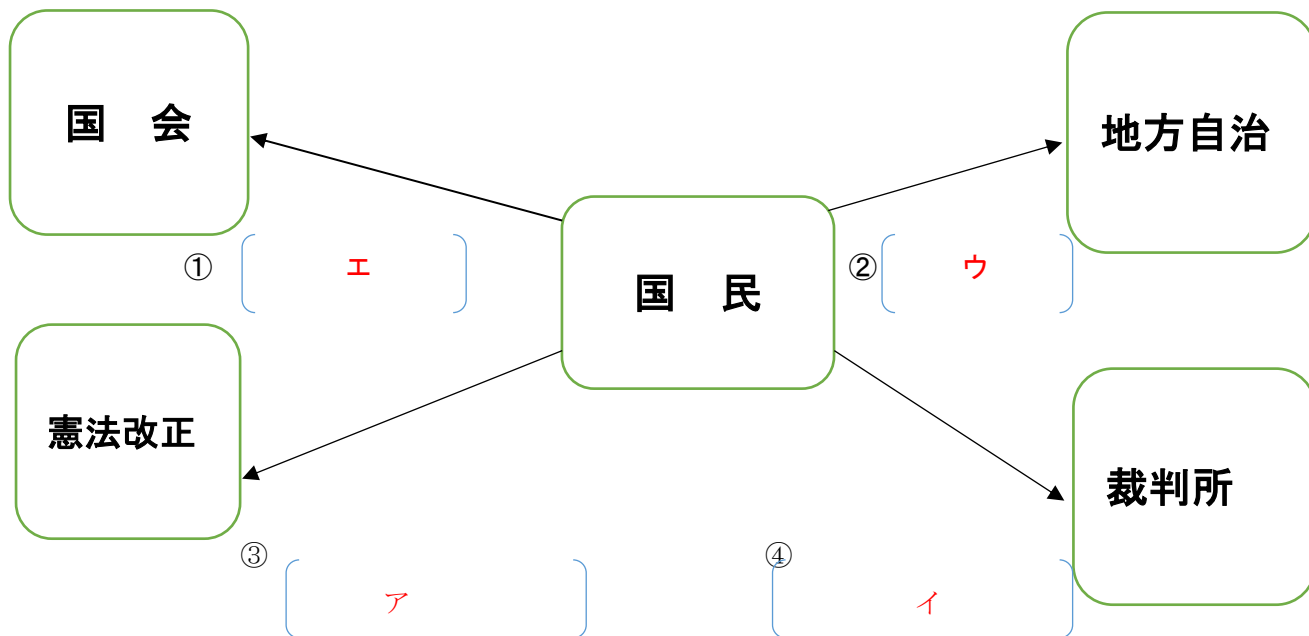
学習日 年 月 日

単 元	年 組 番	7問
6年「憲法とわたしたちの暮らし」	氏名	

1. 日本国憲法の三つの柱について、( ) に当てはまる語句を書きましょう。



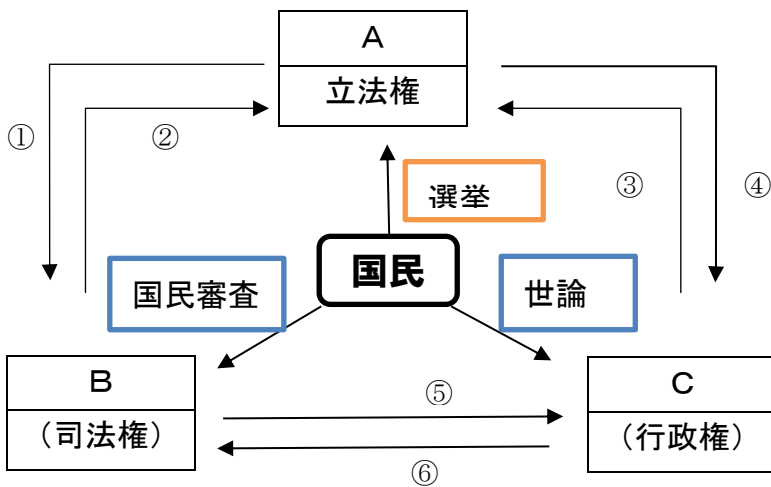
2. 次の図は、日本国憲法の三つの柱のうち、上の①について表したものです。( ) にあてはまる記号を下の口から選んで書き入れましょう。



- ㊦ 国民投票
- ㊧ 国民審査
- ㊨ 知事・市区町村長・議員を選挙
- ㊩ 国会議員を選挙
- ㊪ 内閣総理大臣の指名

単元	年組番	11問
6年「憲法とわたしたちの暮らし」	氏名	

1. 下の図は国の政治のしくみと国民とのかかわりについて表しています。  
 (1) 図のA、B、Cにあてはまる機関の名前を書きましょう。



A	国会	B	裁判所	C	内閣
---	----	---	-----	---	----

- (2) 上の図の①～⑥はそれぞれの機関の役割を表しています。①～⑥にあてはまる記号を  
 下から          選んで書きましょう。

- ① ( カ )      ② ( ア )      ③ ( オ )  
 ④ ( イ )      ⑤ ( 工 )      ⑥ ( ウ )

- ア 法律が憲法に違反していないか調べる       イ 内閣総理大臣を選ぶ  
 ウ 裁判官を任命する       工 政治が憲法どおり行われているか調べる  
 オ 衆議院を解散させる       カ 裁判官を裁判する

- (3) 上の図のように、国の政治の役割を三つの  
 機関に分担しているしくみを何といいますか。

三権分立

- (4) 国の政治のしくみが(3)のようになっている理由を書きましょう。

- ・力を分散させて、政治を慎重に行うため。
- ・お互いの役割がきちんと実行できているか、チェックし合うようにするため。